

受験番号	氏名

解答はすべて、解答欄に記入しなさい。

1 年表を見て、あとの問いにそれぞれ答えなさい。

年表

(1) 年表中の①～⑩に当てはまる語句を下の語句から選びなさい。

稲作	大化の改新	応仁の乱	大和	摂政	源頼朝
たて穴	関ヶ原	長篠	ペリー	西南戦争	
日清戦争	明徳の乱	平清盛	北条時宗	足利尊氏	
太政大臣	シャクシャイン				


時代	出来事	文化
1 万年前	狩りや漁の暮らし	(①) 住居 土器や青銅器を使用
2000 年前	(②) が大陸から伝わる	
a		
400 年ごろ	(③) 朝廷が統一する	各地に王の墓ができる
b		
645 年	(④) がおこる	
c		
1016 年	藤原道長が (⑤) になる	日本風の文化が広まる
1192 年	(⑥) が鎌倉に幕府を開く	
d		
1333 年	鎌倉幕府が滅びる	
e		
1467 年	(⑦) がおこる	武士と公家の文化が広まる
f		
1600 年	(⑧) の戦いがおこる	
1853 年	(⑨) が浦賀にくる	
1877 年	(⑩) がおこる	文明開化がおこる
g		

(2) 年表中の a～g の間で活躍した人物の正しい組合わせを記号で選びなさい。

	ア	イ	ウ	エ
a	卑弥呼	聖徳太子	卑弥呼	聖徳太子
b	聖徳太子	卑弥呼	聖徳太子	卑弥呼
c	推古天皇	聖武天皇	聖武天皇	推古天皇
d	北条政子	紫式部	北条政子	紫式部
e	徳川家康	足利義満	足利義満	徳川家康
f	織田信長	織田信長	豊臣秀吉	豊臣秀吉
g	伊藤博文	小村寿太郎	陸奥宗光	野口英世

(3) 年表中の文化について、次の問いにそれぞれ答えなさい。

- 米などを蓄えるために建てられた建物を何といいますか。
- 各地に作られた王の墓の中で、一番大きな形の墓を何といいますか。
- 日本風の文化の象徴として、貴族が暮らした建物の形式を何といいますか。
- 日本風の文化において、清少納言が書いた代表的な作品の名称を答えなさい。
- 下のアの道具、イの建物、オの建物の名称をそれぞれ答えなさい。
- ウの作品のように、墨だけで描く絵画の描き方を何といいますか。
- エの屏風に描かれているように、大名が江戸と領地を往復する制度を何といいますか。

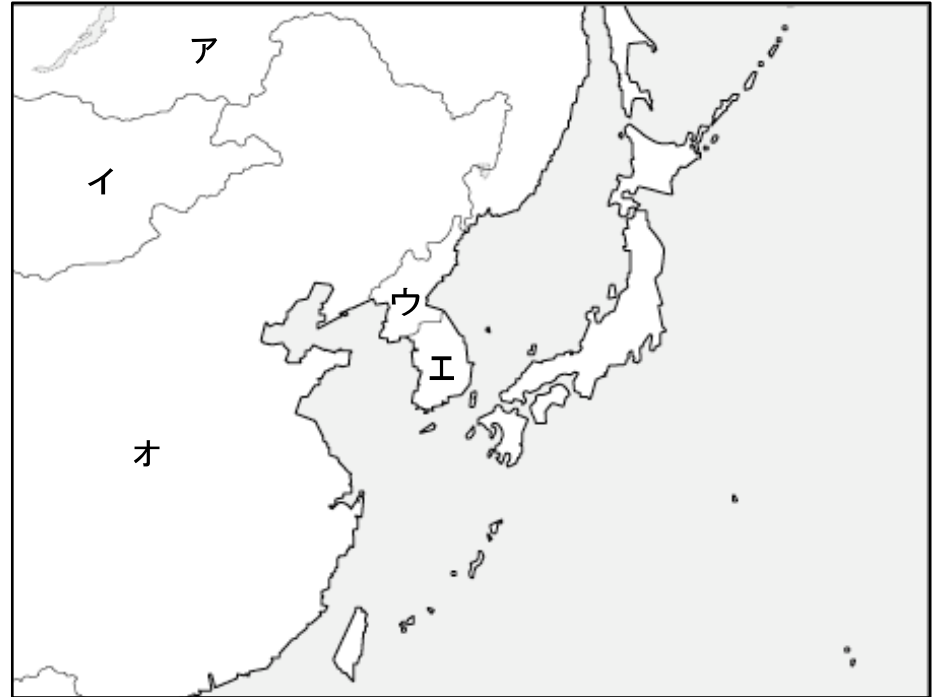


(1) ①	②	③	④
⑤	⑥	⑦	⑧
⑨	⑩	(2)	(3) 1
2	3	4	5 ア
イ	オ	6	7

受験番号	氏名

2 あるクラスで、日本とその周辺の地図をみながら、気づいたことを発表しています。地図と文を見て、あとの問いにそれぞれ答えなさい。


- ・日本の東側と南側には①（太平洋・大西洋）が、北側と西側には海をはさんで②大陸が広がっています。
- ・日本列島は、③（択捉島・沖ノ鳥島）から④（与那国島・南鳥島）まで、島々がつらなっています。
- ・日本は4つの島を中心に、⑤（1億3千万・3億3千万）人が住んでいます。
- ・日本は⑥の都道府県に分れています。
- ・日本の近くには、A 世界で一番人口が多い国があります。
- ・日本の近くには、B 世界で一番面積が大きい国もあります。
- ・C 大相撲の横綱白鵬の出身の国も、日本の近くです。
- ・2002年には、D この国と日本の共催でサッカーワールドカップが開催されました。
- ・E この地域の国々と日本は、貿易が盛んです。
- ・この地域の国々には、多くのF 世界遺産があります。
- ・日本の⑦とよばれる地域は、アの国に占領されています。
- ・沖縄県は、かつて⑧王国とよばれていました。
- ・沖縄県は、太平洋戦争で戦場となり、その後も⑨に占領されていました。



- (1) 文中の()に当てはまる語句をそれぞれ答えなさい。()の中に語句がある場合は、正しいほうを選んで答えなさい。
- (2) 文中の下線部A～Dで説明される国の場所を、地図中から選び記号で答えなさい。また、その国の名前をそれぞれ答えなさい。
- (3) 地図中ウの国の国旗として正しいものを、次のうちから選び記号で答えなさい。



(4) 下線部Eについて、次のA・Bのグラフのうち、日本の輸出を表しているものを選び、記号で答えなさい。



- (5) 下線部Eについて、貿易を行う際、お互いの願いが一致しないときに発生する問題を何といいますか。
- (6) 下線部Fについて、次のうち日本で世界遺産に登録されていないものを選び、記号で答えなさい。
ア 富士山 イ 白神山地 ウ 白川郷の合掌づくり エ 巖島神社
- (7) 海外の人と交流する場合に、気をつけなければならないことはどのようなことですか。あなたの考えを述べなさい。

(1) ①	②	③	④
⑤	⑥	⑦	⑧
⑨	(2) A	B	C
D	(3)	(4)	(5)
(6)	(7)		