

受験番号	氏名

※ 解答はすべて、3枚目の解答用紙に記入しなさい。

1 右の表を見て、あとの問いにそれぞれ答えなさい。

- (1) 表中の ( ) に適する語句を答えなさい。
- (2) Aの人物が治めた国を何というか答えなさい。
- (3) Bの人物はのちに何天皇となったか答えなさい。
- (4) Cの人物についての説明として正しいものを、次のア～エから選び記号で答えなさい。  
 ア 仏教の力で国を治めようとした。  
 イ 十七条の憲法を定め、新しい国づくりをしました。  
 ウ 裁判の基準となる御成敗式目を定めました。  
 エ 現在の大阪府に日本最大の古墳をつくりました。
- (5) Dの人物がかな文字で書いた作品を何というか答えなさい。
- (6) Eの人物は何という役職についていたか答えなさい。
- (7) Fの人物が建てた写真1の建物を何というか答えなさい。
- (8) Gの人物が長篠の戦いで使った武器は何か答えなさい。
- (9) Hの人物が政権を朝廷に返したことを何というか答えなさい。
- (10) Iの人物が初めてついた役職を何か答えなさい。
- (11) Jの人物についての説明として正しいものを、次のア～エから選び記号で答えなさい。  
 ア 破傷風という病気の治療の仕方を発見しました。  
 イ 赤痢菌を発見し、その治療薬をつくることに成功しました。  
 ウ 黄熱病の調査研究をしましたが、感染なくなりました。  
 エ 足尾銅山の仕事をやめるよう政府にうったえました。

時代	活躍した人物	できごと
弥生	A 卑弥呼	・米づくりが大陸から伝わる・・・a
古墳	B 中大兄皇子	・( ③ ) が隋に派遣される ・大化の改新が進められる
奈良	C 聖武天皇	・奈良に都が移る・・・b ・( ④ ) に大仏がつくられる
( ① )	D 紫式部	・京都に都が移る ・遣唐使が停止される・・・c
鎌倉	E 北条時宗	・承久の乱が起こる・・・d ・元が攻めてくる
室町	F 足利義政	・京都に幕府が開かれる ・応仁の乱が起こる
安土桃山	G 織田信長	・キリスト教が伝わる・・・e ・豊臣秀吉が全国を統一する
江戸	H 徳川慶喜	・武家諸法度が定められる ・日米和親条約を結ぶ・・・f
明治	I 伊藤博文	・西南戦争が起こる・・・g ・大日本帝国憲法が公布される
( ② )	J 野口英世	・普通選挙制度が定められる・・・h
昭和	K 平塚らいてう	・広島・( ⑤ ) に原子爆弾が落とされる ・東京オリンピックが開かれる

- (12) Kの人物が設立した女性の権利を守るための団体は何か答えなさい。
- (13) aについて、米づくりに使われた写真2の道具を何というか答えなさい。
- (14) bについて、この都を何というか答えなさい。
- (15) cについて、遣唐使とともに日本へ渡った僧はだれか答えなさい。
- (16) dについて、鎌倉幕府と武士の関係を述べた次の文の ( ) に適する語句を答えなさい。  
 鎌倉幕府と武士は、ご恩と ( ) の関係で結びついていました。
- (17) eについて、日本にキリスト教を伝えた人物はだれか答えなさい。
- (18) fについて、この条約を結ぶ前に浦賀に現れたアメリカ合衆国の使者はだれか答えなさい。
- (19) gについて、この戦いの中心となった人物はだれか答えなさい。
- (20) hについて、このとき選挙権が認められた人の説明として正しいものを、次のア～エから選び記号で答えなさい。  
 ア 25歳以上のすべての男女    イ 20歳以上のすべての男女    ウ 25歳以上のすべての男子    エ 25歳以上のすべての女子



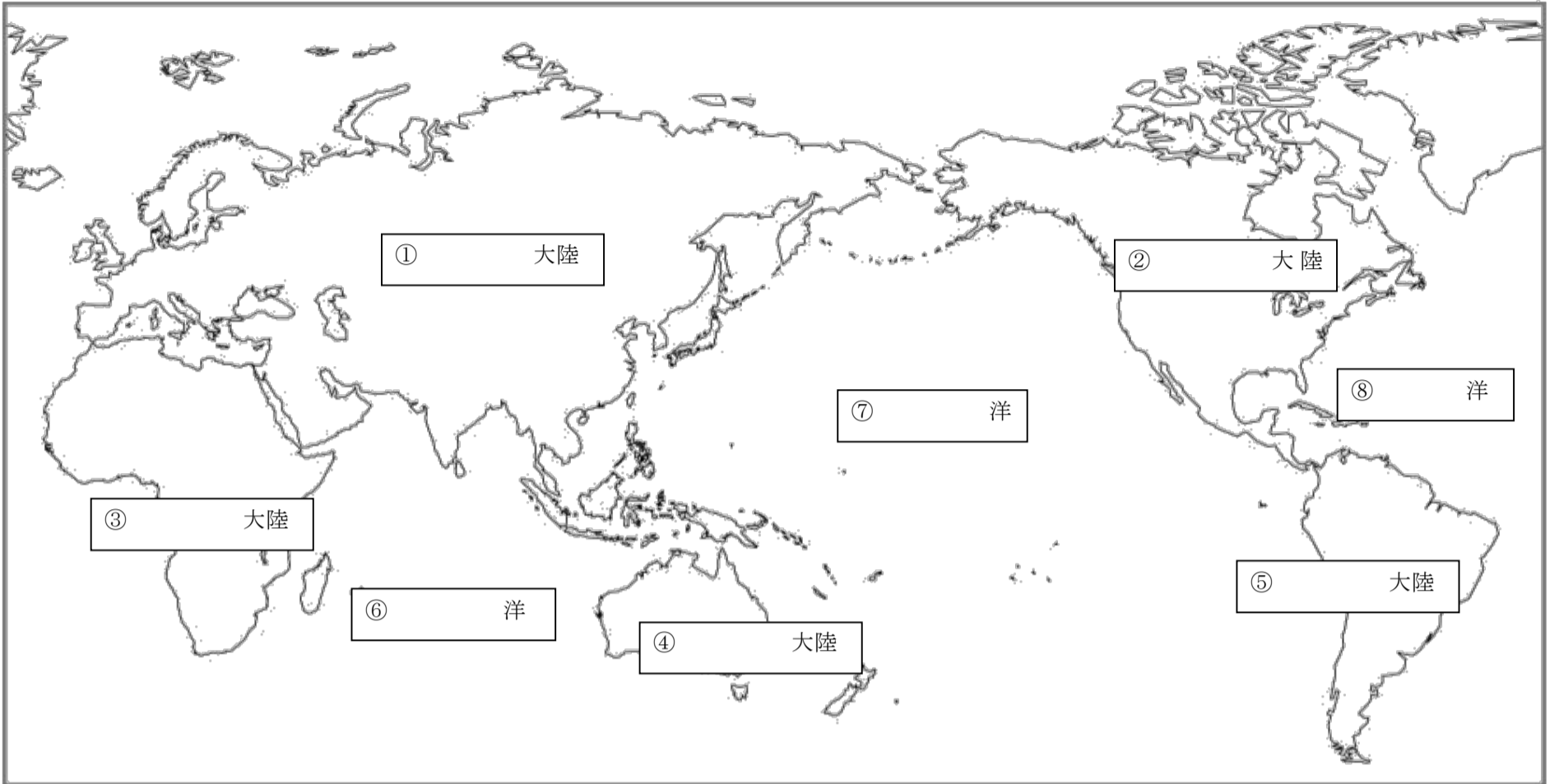
写真1



写真2

受験番号	氏名


2 つぎの世界地図を見て、あとの問いにそれぞれ答えなさい。




(1) 地図中①～⑤の大陸名、⑥～⑧の海洋名をそれぞれ答えなさい。

(2) この地図に、記載されていない大陸を答えなさい。

(3) 次のカードA～Iの国旗と説明を見て、( )にあてはまる国名をそれぞれ答えなさい。

A ( )  
  
 古くからの歴史がある国です。最近外国からの観光客が 1000 万人を超えました。

B ( )  
  
 わが国の南にあり、サンゴ礁が有名です。福井中学校の姉妹校もあります。

C ( )  
  
 サッカーが盛んで、今年にはワールドカップが開かれます。2016年にはオリンピックも開かれます。

D ( )  
  
 わが国とは、産業、政治、文化の面でつながりがあります。

E ( )  
  
 自動車産業も盛んで、環境保全の取り組みも進んでいます。

F ( )  
  
 人口が世界第一位です。2008年には、オリンピックが開かれました。

G ( )  
  
 ある資源の埋蔵量が世界第一位で、わが国とは、輸入で深いつながりがあります。

H ( )  
  
 国土面積が世界第二位で、冬の寒さがとても厳しい国です。

I ( )  
  
 わが国に一番近い国で、キムチが有名です。ITや自動車産業などが急速に伸びてきています。

(4) カードAの国の現在の内閣総理大臣を、ア～エから選び記号で答えなさい。

- ア 菅直人      イ 野田佳彦      ウ 小泉純一郎      エ 安倍晋三

(5) カードDの国の現在の大統領を、ア～エから選び記号で答えなさい。

- ア ワシントン      イ リンカーン      ウ トマソン      エ オバマ

(6) カードGの国のある資源とは何か、下のア～エから選び記号で答えなさい。

- ア 天然ガス      イ 石炭      ウ ウラン      エ 石油

受験番号	氏名

解答用紙

1

(1) ①	②	③	④
⑤	(2)	(3)	(4)
(5)	(6)	(7)	(8)
(9)	(10)	(11)	(12)
(13)	(14)	(15)	(16)
(17)	(18)	(19)	(20)

2

(1) ①	②	③	④
⑤	⑥	⑦	⑧
(2)	(3) A	B	C
D	E	F	G
H	I	(4)	(5)
(6)			