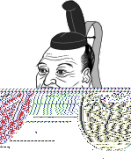










| | |
|------|----|
| 受験番号 | 氏名 |
| | |

1 下の人物カードを見て、次の問いに答えなさい。

| | | |
|---|--|---|
|  <p>カードA 私は、1600年に(①)の戦いで勝利し、江戸幕府を開きました。 人物名 ()</p> |  <p>カードB 私は、室町幕府を滅ぼし、1575年に(②)の戦いで勝利しました。 人物名 ()</p> |  <p>カードC 私は、(③)の女王になり、うらないで不思議な力を発揮しました。 人物名 ()</p> |
|  <p>カードD 私は、日本に上陸して九州を中心にある宗教を広めました。 人物名 ()</p> |  <p>カードE 私は、中国から日本に渡り、正式な仏教を広めました。 人物名 ()</p> |  <p>カードF 私は、中国を征服しようとして、2度にわたり(④)に軍を送りました。 人物名 ()</p> |
|  <p>カードG 私は、奈良に大きな大仏を造りました。 人物名 ()</p> |  <p>カードH 私は、薩摩藩の武士として、江戸幕府を倒しました。 人物名 ()</p> |  <p>カードI 私は、天皇を助ける役職になり、天皇中心の国を作ろうとしました。 人物名 ()</p> |

(1) カード中の(①)～(④)にあてはまるものを、次の語句より選び、解答欄に記入しなさい。

| | | | |
|----|------|-----|----|
| 長篠 | 邪馬台国 | 関ヶ原 | 朝鮮 |
|----|------|-----|----|

(2) カードAについて答えなさい。

- ① この人物が、1603年に朝廷から任じられた役職は何か、右の()より一つ選んで答えなさい。(摂政 関白 執権 征夷大將軍)
- ② この人物が行ったことについて、正しく説明しているものをア～エから一つ選び、記号で答えなさい。
- ア 元の大軍から日本を守るために、九州の守りを固めました。 イ 全国に守護、荘園ごとに地頭を置きました。
- ウ 日本最大の古墳をつくらせ、権力の大きさを示しました。 エ 武家諸法度をつくり、全国の大名を統制しました。

(3) カードBについて、この人物が行ったことについて、間違っているものをア～エから一つ選び、記号で答えなさい。

- ア 京都に近い安土に城を築き、全国統一の拠点としました。 イ 楽市楽座の政策を行い、商業や工業をさかんに行いました。
- ウ 大量の鉄砲を使い、全国の武将を次々に倒しました。 エ 壇ノ浦の戦いで、平氏を追い詰め滅ぼしました。

(4) カードCの人物の頃、朝鮮半島から日本に渡り、様々な技術をもたらした人々を何というか。ア～ウから一つ選び、記号で答えなさい。

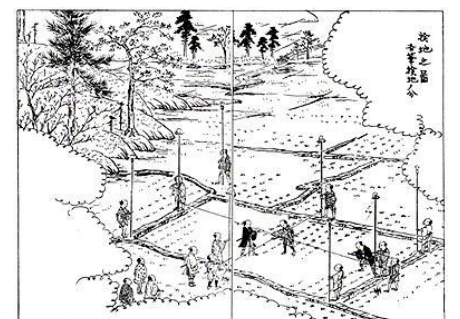
- ア 遣隋使 イ 遣唐使 ウ 渡来人

(5) カードDについて答えなさい。

- ① この人物が、日本に広めたある宗教とは何か答えなさい。
- ② この人物の頃について、正しく説明しているものをア～エから一つ選び、記号で答えなさい。
- ア 南蛮貿易によって、ヨーロッパからの品物が日本にもたらされました。 イ 漢字や土器の作り方が伝えられ、技術が発展しました。
- ウ 寝殿造の大きな屋敷で、和歌やけまりが楽しられました。 エ 観阿弥・世阿弥によって、能が大成しました。

(6) カードFについて答えなさい。

- ① 全国の百姓から刀や鉄砲などを取り上げて、反抗できないようにさせた政策を何と言うか答えなさい。
- ② 右の資料は、田畑のよし悪しや耕作している人を調べ、収入をより確かなものにしようとした検地の様子である。この人物が行った検地を特に何というか答えなさい。



(7) カードGの人物は、なぜ奈良に大きな大仏をつくったのか。その理由を説明しなさい。

(8) カードHの頃、明治時代の政策として間違っているものをア～エから一つ選び、記号で答えなさい。

- ア 廃藩置県 イ 地租改正 ウ 富国強兵 エ 御成敗式目

(9) カードIについて答えなさい。

- ① 家柄や出身地に関係なく能力や功績で役人にすることを決めた政策を何というか。下の()から一つ選んで答えなさい。(奉公 冠位十二階 大日本帝国憲法)
- ② 役人の心構えを示したものを何というか。
- ③ この人物が建てた右の資料の建物を何というか答えなさい。











(10) カードA～Iの中にカードEの人物と関係があるカードがあります。そのカードはどれか解答欄に記入しなさい。

(11) カードA～Iの()にあてはまる人物名を下の語句からそれぞれ選んで記号で答えなさい。

| | | | | |
|--------|--------|---------------|--------|--------|
| ア 聖徳太子 | イ 鑑真 | ウ 西郷隆盛 | エ 卑弥呼 | オ 徳川家康 |
| カ 聖武天皇 | キ 豊臣秀吉 | ク フランシスコ・ザビエル | ケ 織田信長 | |

| | |
|------|----|
| 受験番号 | 氏名 |
| | |

2 下の資料を見て、次の各問いに答えなさい。

| | | | |
|--|--|--|---|
|  資料A 国名：日本 2020年に東京で(①)が開催されます。 |  資料B 国名：エジプト 古い歴史をもつ国です。世界で使われる暦が作られました。 |  資料C 国名：フランス 世界遺産に登録されたベルサイユ宮殿があります。 |  資料D 国名：カナダ 冬の寒さが厳しい国です。 |
|  資料E 国名：(②) 日本とは産業や政治、文化の面でも深いつながりがあります。 |  資料F 国名：(③) 2016年に(①)が開催されました。 |  資料G 国名：サウジアラビア くみ上げられた鉱産資源は、タンカーで日本にも運ばれます。 |  資料H 国名：(④) 自動車の生産がさかんで、環境保全の取り組みも進んでいます。 |

- 上の資料の(①)～(④)にあてはまる語句を答えなさい。
- 資料Aについて答えなさい。
 - 日本の国土として間違っているものをア～エから一つ選び、記号で答えなさい。
ア 北海道 イ 本州 ウ 四国 エ 台湾
 - 日本の地形として間違っているものをア～ウから一つ選び、記号で答えなさい。
ア 火山が多く、地震が起こりやすい。 イ 山が多く、平地が少ない。 ウ 外国に比べて、川が長く、流れはゆるやかである。
- 資料Bについて、エジプトにある代表的な遺跡として、正しいものをア～エの写真の中から一つ選び、記号で答えなさい。
ア  イ  ウ  エ 
- 資料Cについて、日本にもフランスのベルサイユ宮殿と同じように世界遺産が多く存在している。日本にある世界遺産を1つ答えなさい。
- 資料Dについて、カナダが属している大陸の名称を答えなさい。
- 資料Eについて答えなさい。
 - 2017年1月20日に第45代アメリカ大統領に就任した人物は誰か。ア～エから一つ選び、記号で答えなさい。
ア バラク・オバマ イ ヒラリー・クリントン ウ ドナルド・トランプ エ ジョージ・ブッシュ
 - この国の首都を次のア～エから一つ選び、記号で答えなさい。
ア ワシントン イ ニューヨーク ウ オタワ エ キャンベラ
- 資料Fについて、この国で資料中の(①)が開かれた場所はどこか。ア～エから一つ選び、記号で答えなさい。
ア ロサンゼルス イ リオデジャネイロ ウ マドリード エ アテネ
- 資料Gについて、くみ上げられた鉱産資源とは何か答えなさい。
- 資料Hについて、ヨーロッパの国々が集まり、一つのまとまりをつくっている組織を何というか答えなさい。
- 右の国旗1同じ大陸に属する国を、資料より選んで解答欄に書きなさい。

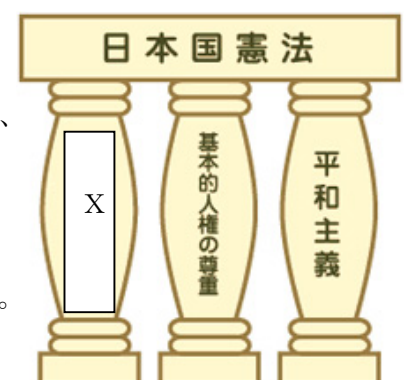
国旗1



3 次の各問いに答えなさい。

- 右の資料は、日本国憲法の3つの柱を示しています。これについて、次の問いに答えなさい。
 - 資料中の **X** には、「国の政治をどのように進めていくのかを最終的に決めるのは国民である」ということを意味する言葉があてはまります。この言葉を答えなさい。
 - 資料中の「平和主義」に関して、日本は、原子爆弾の攻撃を受けたただ1つの国として、「核兵器をもたず、つくらず、もちこませず」という原則をとっている。この原則を何というか答えなさい。
 - 私たちは、ある一定の年齢になれば、国会議員などを選挙で選ぶことができる。ある一定の年齢は何歳か答えなさい。
 - 日本国憲法では国民の義務として、「()を納める義務」を定めている。()にあてはまることばを答えなさい。
- 南太平洋の島々では、海面上昇が問題となっている。この原因となっている地球環境問題を何というか答えなさい。

資料



| | |
|------|----|
| 受験番号 | 氏名 |
| | |

| | | | | | |
|-------|----------|----------------|-------|------|-----|
| 1 | (1) ① | ② | ③ | ④ | |
| | (2) ① | ② | | / | |
| | (3) | (4) | | | |
| | (5) ① | ② | (6) ① | ② | |
| | (7) | | | (8) | |
| | (9) ① | ② | ③ | (10) | |
| | (11)カードA | カードB | | カードC | |
| | カードD | カードE | | カードF | |
| | カードG | カードH | | カードI | |
| | 2 | (1) ① | ② | ③ | ④ |
| | | (2) ① | ② | | (3) |
| (4) | | (5) | | / | |
| (6) ① | | ② | (7) | | (8) |
| (9) | | (10)国旗 1 資料 | | / | |
| 3 | (1) ① | ② | ③ | | ④ |
| | (2) | / | | | |

| | |
|------|----|
| 受験番号 | 氏名 |
| | |

| | | | | | |
|--------------------|-----------------------|-------------------|-----------|--------|-------|
| 1 | (1) ① 関ヶ原 | ② 長篠 | ③ 邪馬台国 | ④ 朝鮮 | |
| | (2) ① 征夷大將軍 | ② エ | | | |
| | (3) エ | (4) ウ | | | |
| | (5) ① キリスト教 | ② ア | (6) ① 刀狩令 | ② 太閤検地 | |
| | (7) 仏教の力で国を治めようとしたから。 | | | (8) エ | |
| | (9) ① 冠位十二階 | ② 十七条の憲法 | ③ 法隆寺 | (10) G | |
| | (11) カードA オ | カードB ケ | カードC エ | | |
| | カードD ク | カードE イ | カードF キ | | |
| | カードG カ | カードH ウ | カードI ア | | |
| | 2 | (1) ① オリンピック | ② アメリカ | ③ ブラジル | ④ ドイツ |
| | | (2) ① エ | ② ウ | (3) ア | |
| (4) 金閣 石見銀山 厳島神社など | | (5) 北アメリカ大陸 | | | |
| (6) ① ウ | | ② ア | (7) イ | (8) 石油 | |
| (9) EU | | (10) 国旗 1 資料 F | | | |
| 3 | (1) ① 国民主権 | ② 非核三原則 | ③ 18歳 | ④ 税金 | |
| | (2) 地球温暖化 | | | | |