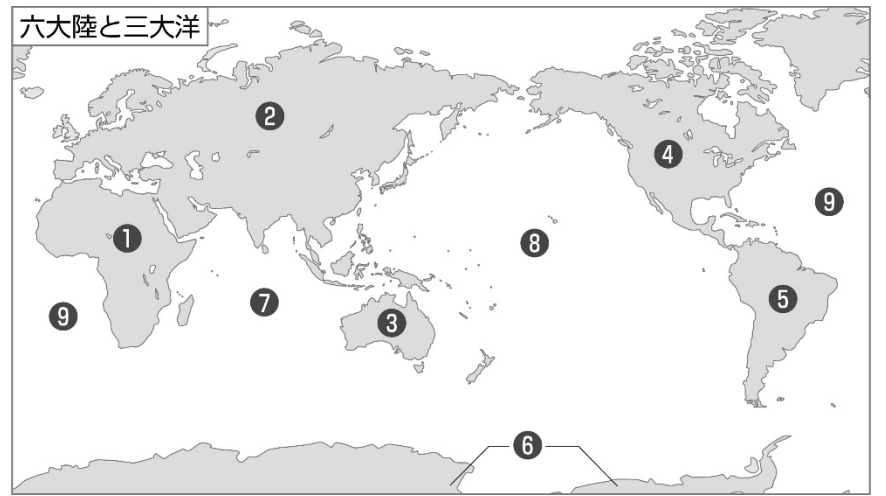
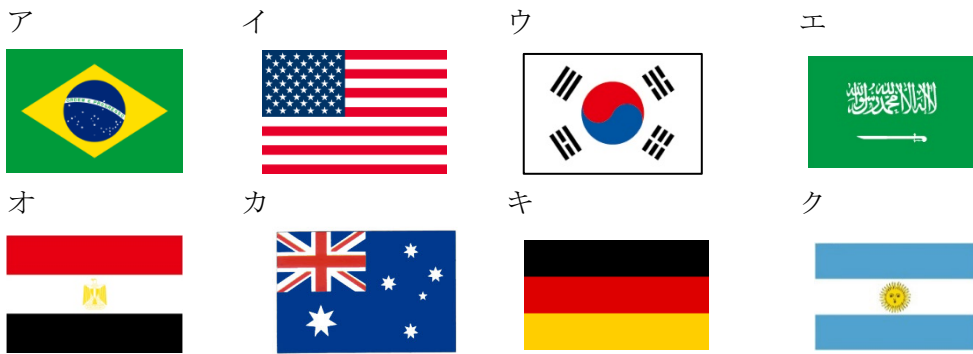


受験番号	氏名

1 右の地図を見て、次の問いに答えなさい。

- (1) ①～⑨にあてはまる大陸、海の名前を解答欄に書きなさい。
 (2) 下のア～クの国旗は、右の地図中の①～⑤のどの大陸にあてはまるか。①～⑤の中から選び記号で答えなさい。

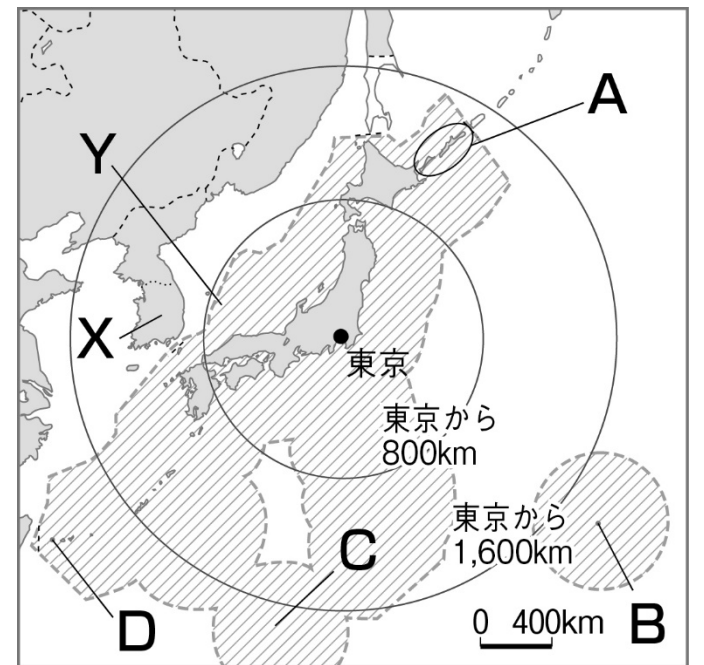


2 右の日本周辺に関する地図を見て、次の問いに答えなさい。

- (1) 右の日本周辺に関する地図を見て、【 】の中から正しい言葉を選びなさい。
 ① 日本の国土で、一番北のAの島は、【 択捉島 南鳥島 沖ノ鳥島 与那国島 】である。
 ② 日本の国土で、一番東のBの島は、【 択捉島 南鳥島 沖ノ鳥島 与那国島 】である。
 ③ 日本の国土で、一番南のCの島は、【 択捉島 南鳥島 沖ノ鳥島 与那国島 】である。
 ④ 日本の国土で、一番西のDの島は、【 択捉島 南鳥島 沖ノ鳥島 与那国島 】である。

- (2) 右の日本周辺に関する地図中のXの国名を答えなさい。
 (3) 右の日本周辺に関する地図中のYは、200海里水域を示している。この200海里水域について、関係のないものを下のア～ウから選んで記号で答えなさい。

- ア この水域が決められたことで、日本の水産資源の輸入量は増えた。
 イ 外国船の魚を捕る量が制限された。
 ウ この水域により、自国の資源の管理や水の汚れ防止が求められなくなった。



※境界線の一部は関係国と協議中。

3 次の①～⑥の言葉について、正しく説明しているものを次のア～キから選んで記号で答えなさい。

- 言葉 ① 山脈 ② 平野 ③ 盆地 ④ 台地

説明	ア 平地のうち、海に面している土地	イ 平地のうち、周りを山に囲まれている土地
	ウ 山地のうち、山のみねがつながっているもの	エ 平野や盆地の中で周りより高くなっている平らな土地

4 沖縄県と岐阜県のくらしや産業について、次のア～キの説明を読み、沖縄県にあてはまるものをA、岐阜県にあてはまるものをBとして、解答欄に書きなさい。

- | | | |
|-------------------------------------|------------------------|------------------------------|
| ア 1年中暖かい気候である。 | イ 気候に合わせて、サトウキビを作っている。 | ウ 木曾川よりも低い土地で輸中とよばれている地域がある。 |
| エ 暖かい気候と美しい自然を生かして観光が盛んである。 | オ 雨が多く、台風の通り道である。 | キ 木曾川、揖斐川、長良川に囲まれている。 |
| カ 堤防が壊れても水につからないように石垣を積み上げて家を建てている。 | | |

5 米作りがかかえる問題と、それを解決するための取り組みについてまとめた次の文章を読み、()の中に正しい言葉を下の語群から選んで解答欄に記号で答えなさい。

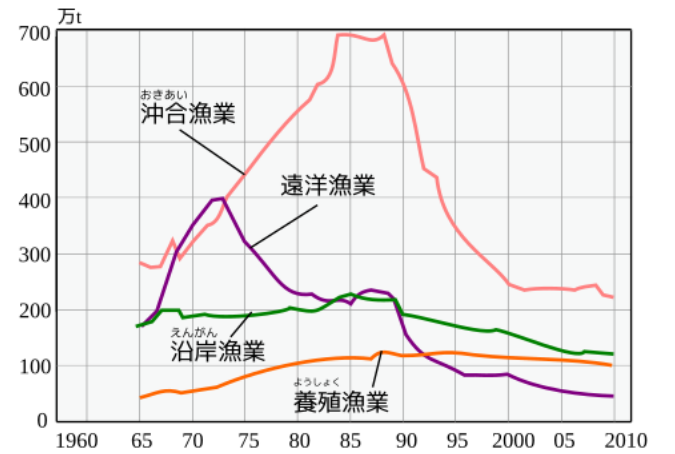
米作りをする人は年々 (①) おり、20歳～50歳代の若い人が (②)。農家の多くは、他の仕事を行いながら農業を行っており、このような農家を (③) という。農業だけの生活では、厳しいというのが現状であり、そのようになった理由としては、(④) などによって、(⑤) の消費量が減ったことや、外国から (⑥) が輸入されるようになったことなどが挙げられる。

語群	ア 小麦	イ 減って	ウ 兼業農家	エ 高い米	オ 米	カ 安い米	キ 少ない	ク 食生活の変化	ケ 専業農家
----	------	-------	--------	-------	-----	-------	-------	----------	--------

受験番号	氏名

6 右の漁獲量の移り変わりのグラフを見て、日本の水産業がかかえる問題について、正しく説明しているものには○を、間違っているものには×をつけなさい。

- ① 沖合漁業は、1980年代後半から急激に漁獲量が減っている。
- ② 遠洋漁業の漁獲量は、1970年代中ごろから、減っている。
- ③ 全体的にみると、日本の漁獲量は、増えてきている。
- ④ 養殖漁業は、少しずつ増えてきているか、ほぼ横ばい状態である。
- ⑤ 漁獲量が最も多いのは、沿岸漁業である。
- ⑥ 2010年の漁獲量で最も少ないのは、沖合漁業である。



7 右の年表や資料を見て、次の問いに答えなさい。

年表

- (1) 年表Aの頃、大陸から日本にやってきて、日本に稲作など新しい文化をもたらした人たちを何とよんで呼ぶか答えなさい。
- (2) 年表Bについて、この時期に強い力をもった大和政権の王を何とよんだか。下のア～エから記号で選んで答えなさい。

ア 豪族 イ 国司 ウ 貴族 エ 大王

- (3) 年表Bの中で、より大きな権力を持った者が作った右のような古墳を何とよぶか。



- (4) 年表Cについて、次の問いに答えなさい。

① 聖徳太子は、家柄に関係なく、個人の能力や功績によって役人を取り立てる仕組みを作った。この仕組みを下のア～エの記号から選んで答えなさい。

ア 十七条の憲法 イ 大宝律令 ウ 冠位十二階 エ 大日本帝国憲法

② 聖徳太子は、中国に小野妹子を使者として送った。この使者を何とよぶか。下のア～エの記号から選んで答えなさい。

ア 遣唐使 イ 国司 ウ 蘇我氏 エ 遣隋使

- (5) 年表Dについて、この都は、現在のどこにあるか。下のア～エの記号から選んで答えなさい。

ア 奈良県 イ 大阪府 ウ 京都府 エ 滋賀県

- (6) 年表Eについて、東大寺の大仏をつくった主な目的を、次のア～ウの記号から選んで答えなさい。

ア 仏教の力で国を治めるため イ 観光客を増やすため ウ 外国に日本の発展を示すため

- (7) 年表Fについて、次の問いに答えなさい。

① この都は、現在のどこにあるか。下のア～エの記号から選んで答えなさい。

ア 奈良県 イ 大阪府 ウ 京都府 エ 滋賀県

② 平安京に都があった時代に見られた右の資料のような建物のつくりを何とよぶか答えなさい。

資料



8 右の年表や資料を見て、次の問いに答えなさい。

年表

- (1) 年表中Aについて、平氏が滅びると、源氏が権力を握り幕府を開いた。源氏は、どこに幕府を開いたか答えなさい。
- (2) 年表中Bについて、次の問いに答えなさい。

① 金閣を建てた人物を、次のア～エの記号から選んで答えなさい。

ア 足利義政 イ 足利尊氏 ウ 足利義満 エ 足利義昭

② 金閣を建てた人物が貿易を行った相手国はどこか、次のア～エの記号から選んで答えなさい。

ア 中国 イ アメリカ ウ イタリア エ ポルトガル

- (3) 年表中Cについて、この人物が行った政策について正しいものを次のア～エの記号から選んで答えなさい。

資料

ア 刀狩 イ 冠位十二階 ウ 御成敗式目 エ 十七条の憲法

- (4) 年表中Dについて、次の問いに答えなさい。

① 右の資料は、全国の大名を取り締まるために江戸幕府が出した決まりである。この決まりを何とよぶか。

② 右の資料にある参勤交代の制度を定めた人物は誰か答えなさい。

- (5) 年表中Eの翌年1854年に結ばれ、アメリカと国交を開いた条約を何とよぶか答えなさい。

- 一 大名は、毎年4月中に江戸へ参勤すること
- 一 領地の城を修理する場合には、必ず幕府に届け出ること

9 次の()にあてはまる言葉や数字を、右の語群から選んで答えなさい。

語群

- (1) 縄文時代は、食べ物を煮たり、たくわえたりする(①)をつくって生活していた。
- (2) 弥生時代、稲穂を刈るために(②)を使用した。
- (3) 藤原氏は、自分の娘を、(③)のきさきとし、その子を(③)として権力を握った。

安土城	姫路城	石包丁	応仁の乱
北条	土器	須恵器	天皇
豪族	征夷大將軍	時政	泰時
太政大臣	関白	壬申の乱	

受験番号	氏名

- (4) 源頼朝は、朝廷から(4)に任命されて全国の武士を従えるようになった。
 (5) 源頼朝の死後、将軍を助ける役職である執権についた(5)氏が政治を続けた。
 (6) 1467年、大名が二手に分かれ、大きな争いに発展した。この戦乱を(6)という。
 (7) 織田信長が琵琶湖のほとりに作った大きな城を(7)という。

1

(1) ①	②	③	④
⑤	⑥	⑦	⑧
⑨	(2) ア	イ	ウ
エ	オ	カ	キ
			ク

2

(1) ①	②	③	④
(2)	(3) ウ		

3

①	②	③	④
---	---	---	---

4

ア	イ	ウ	エ	オ	カ	キ
---	---	---	---	---	---	---

5

①	②	③	④	⑤	⑥
---	---	---	---	---	---

6

①	②	③	④	⑤	⑥
---	---	---	---	---	---

7

(1)	(2)	(3)	(4) ①	②
(5)	(6)	(7) ①	②	

8

(1)	(2) ①	②	(3)	(4) ①	②	(5)
-----	-------	---	-----	-------	---	-----

9

(1)	(2)	(3)	(4)	(5)	(6)	(7)
-----	-----	-----	-----	-----	-----	-----