

受験番号	氏名

1 右の年表を見て、あとの問いに答えなさい。

時代	年	できごと
江戸	1853	①ペリーが浦賀に来る
	1854	日米()条約を結ぶ
	1858	アメリカと②不平等な条約を結ぶ
明治	1866	③薩摩藩と長州藩が手を結ぶ
	1867	④江戸幕府がほろぶ
	1868	明治維新がはじまる

(1) 下線部①について、この人物はどこから日本に来たか答えなさい。

(2) 右の年表()にあてはまる語句について、正しいものを下のア～エから記号で選んで答えなさい。

ア 同盟 イ 和親 ウ 親睦 エ 友好

(3) (2)の条約により、日本は2つの港を開くことになった。この2つの港を下のア～オから記号で選んで答えなさい。

ア 下田 イ 福井 ウ 敦賀 エ 江戸 オ 函館

(4) 下線部②について、日本にとって不平等な点が2つあった。この2点について説明しなさい。


(5) 下線部③について、幕府を倒し、天皇中心の国をつくるために薩摩藩と長州藩が中心となって下級武士が主に運動を起こしていった。薩摩藩と長州藩の中心となった人物について、下のア～オからそれぞれ記号で選び、答えなさい。

ア 西郷隆盛 イ 勝海舟 ウ 坂本龍馬 エ 木戸孝允 オ 板垣退助

(6) 下線部④のころについて、正しく説明しているものを下のア～ウから記号で選んで答えなさい。

ア 武士の世の中になり、戦国時代を統一するものが現れた。
 イ 遣唐使が廃止され、日本独自の文化が広まり、貴族中心の世の中になった。
 ウ 200年以上続いた鎖国が終わり、開国して外国との貿易が始まった。

資料 A



2 右の資料を見て、あとの問いに答えなさい。

(1) 右の資料 A は、いつ頃の時代の様子をえがいたものか。あてはまる時代を次のア～エから選んで答えなさい。

ア 平安時代 イ 江戸時代 ウ 明治時代 エ 平成時代

(2) この時代に新しく外国から伝わってきたものを右の資料 A から選んで答えなさい。

(3) 欧米の制度や生活様式が取り入れられ、新聞や雑誌の発行が盛んになり、急激な変化が起こった。西洋のものは何でもよいともてはやされたこの世の中の動きを何というか。下のア～エから選んで答えなさい。

ア 文明開化 イ 学問のすすめ ウ 自由民権運動 エ 大宝律令

(4) 新政府の新しい国づくりについて、()にあてはまるものを右の語群 B から選んで答えなさい。

- ① 新しい政治の方針を()として示した。
- ② 江戸を()として改め、翌年には、首都とした。
- ③ 天皇中心の政治を全国に行き渡らせるために、大名が治めていた土地と人民を天皇に返させた。これを()という。
- ④ 藩を廃止して、新たに県を置き、政府の役人である知事を派遣したことを()という。
- ⑤ 1873年に、20歳以上の男子に3年間軍隊に入ること義務付けた法令を()という。
- ⑥ ()とは、土地の値段を基準に地租という税を定め、現金で税を納めさせるようにした政策である。

語群 B

- 地租改正
- 廃藩置県
- 版籍奉還
- 東京
- 京都
- おふれ
- 五箇条のご誓文
- 徴兵令

(5) 右の人物を見て、あてはまる説明を次のア～ウから選んで答えなさい。

ア 自由民権運動の中心人物であり、国会開設を要求し、政党である立憲改進黨をつくった。

イ 自由民権運動の中心人物である。政治は一部の政治家や役人だけで進めるものではなく、欧米の国々のように国の最高の決まりである憲法を制定して議会を開き、国民の意見を広く聞いて進めるべきだと国会開設を求めた。政党は、自由党を結成した。

ウ 国会開設に向けて、ヨーロッパに渡り、ドイツなどの憲法を調べ、大日本帝国憲法の草案を作った。帰国後、内閣の制度をつくり初代内閣総理大臣となった。



3 右の図の3人の武将について、あとの問いに答えなさい。

(1) 次の①～③にあてはまる人物を、右の資料のア～ウから記号で選んで答えなさい。

- ① 低い身分から有力武将になった。刀狩・検地を行った。
- ② 全国の名を厳しく取り締まり、江戸に幕府を開いた。
- ③ 仏教を排除し、キリスト教を保護した。



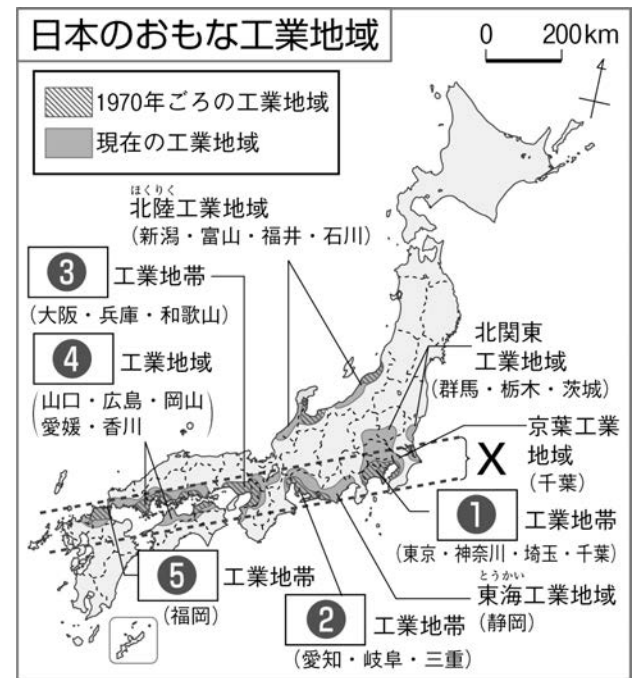
ア イ ウ

(2) 右の図の3人の武将の名前を解答欄に記入しなさい。

受験番号	氏名


4 右の資料を見て、あとの問いに答えなさい。

- (1) 右の資料中の①～⑤にあてはまる工業地帯、工業地域の名称について正しいものを次のア～オの中から記号で選んで答えなさい。
ア 阪神 イ 中京 ウ 京浜 エ 瀬戸内 オ 北九州
- (2) 右の資料中の X で囲まれている工業地帯を何というか答えなさい。
- (3) 日本の工業地域について、正しいものには○、間違っているものには×を書きなさい。
- 船を使って原料や製品を運ぶことが多いため、工業地帯や工業地域の多くは、海沿いに広がっている。
 - 工業が盛んな地域は、働く人や工業製品を利用する人が多く集まる大都市周辺に多く見られる。
 - 海から離れた地域では、工業は発展していない。



5 次の資料を見て、以下の各問いに答えなさい。

(1) 下のメディアの特徴について、あとのア～エの中から選んで答えなさい。



ア	音声だけで発信している。	イ	映像を使っているので、わかりやすい。新しい情報を早く知ることができる。
ウ	社会のようすや暮らしに関わる情報がくわしくのっている。記事を保存し、読み返すことができる。	エ	世界中とつながっているので、大量の情報を知ったり、調べたりすることができる。

- (2) (1) などのマスメディアが伝える情報との関わり方について、正しいものには○、間違っているものには×を書きなさい。
- インターネットなどの情報を利用するときは、内容をよく確かめる必要がある。
 - マスメディアが伝える情報は正確であるので事実とは違う情報は流していない。
 - 自分と同じ考えの新聞やテレビだけを選んで見ればよい。

6 以下の各問いに答えなさい。

- (1) () にあてはまる言葉を、右の語群から選んで記号で答えなさい。
- 水素と酸素が水になるときに発生する電気でモーターを動かして走る自動車は、() である。
 - 日本の自動車は、() が良いので、多くの国で使用されている。
 - 日本から外国への自動車()が増えすぎたため、自分の国の自動車工業を守るために、日本に規制を求める国が出てくるようになった。
- (2) 日本の食料自給率が低下してきている。その理由に、日本人の食生活が変化したことが挙げられるが、どのように変化してきているのか説明しなさい。
- (3) 次の表の()にあてはまる語句を記号で選び表を完成させなさい。

語群
ア 品質
イ 材料
ウ 輸出
エ 輸入
オ ハイブリットカー
カ 燃料電池自動車

病名	水俣病	イタイイタイ病	四日市ぜんそく
地域	熊本・新潟	(①) 県	(②) 県
原因	工場排水にふくまれる(③)で汚染された魚や貝を食べた。	鉱山の排水にふくまれる(④)で汚染された水や食物をとった。	(⑤)で汚染された空気を吸った。
病気の様子	手足がしびれ、目や耳が不自由になり、死亡する場合もある。	骨がもろくなり、折れやすく、激しい痛みで苦しむ。	息をすることが苦しく、のどが痛み、激しいぜんそくの発作が起こる。

ア メチル水銀 イ カドミウム ウ 三重 エ 富山 オ いおう酸化物

- (4) 日本国憲法では、国民に対して色々な権利を保障するとともに、国民が守らなければならない義務についても定めている。この3つの義務を解答欄に書きなさい。
- (5) 国の政治は、①国会、②内閣、③裁判所の3つの機関が、それぞれ分担して進めている。次の役目は、どの機関が担当しているか。解答欄に①～③を書きなさい。
- | | |
|-----------------------------|-------------|
| ア 争いごとを解決したり、罪のあるなしを決めたりする。 | イ 国の法律を定める。 |
| ウ 法律や予算をもとにして、政治を進める。 | エ 外国と条約を結ぶ。 |
| オ 外国と結んだ条約を認める。 | オ 国の予算を決める。 |

受験番号	氏名

1

(1)	(2)	(3)
(4)		
(5) 薩摩藩	長州藩	(6)

2

(1)	(2)	(3)
(4) ①	②	③
④	⑤	⑥
(5) 伊藤博文	大隈重信	板垣退助

3

(1) ①	②	③
(2) ア	イ	ウ

4

(1) ①	②	③	④	⑤
(2)		(3) ①	②	③

5

(1) ①	②	③	④
(2) ①	②	③	

6

(1) ①	②	③
(2)		
(3) ①	②	③
(4)		
(5) ア	イ	ウ
エ	オ	カ